

ΛΥΣΕΙΣ

Κείμενο 1: «Οι μύθοι και η ελιά»

1^{ος} Μύθος: Η ελιά δώρο της Αθηνάς

1.Γιατί διαγωνίζονταν ο θεός Ποσειδώνας και η θεά Αθηνά;

Ο θεός Ποσειδώνας και η θεά Αθηνά διαγωνίζονταν για το ποιος θα κυριαρχήσει στην περιοχή της Αττικής.

2.Ποιο δώρο προσέφερε ο κάθε θεός στην πόλη;

Ο θεός Απόλλωνας προσέφερε στους κατοίκους της Αττικής το νερό ενώ η θεά Αθηνά την ελιά.

3.Γιατί πιστεύετε ότι οι υπόλοιποι θεοί διάλεξαν το δώρο της θεάς Αθηνάς;

Οι υπόλοιποι θεοί διάλεξαν το δώρο της θεάς Αθηνάς γιατί ήταν ανεκτίμητο και δεν υπήρχε ως τότε στον κόσμο. Με το δώρο αυτό οι άνθρωποι μπορούσαν να απολαμβάνουν το μαγειρεμένο φαγητό τους, να απολαμβάνουν μια φωτισμένη νύχτα, χρησιμοποιώντας το λάδι ως καύσιμο για τους λύχνους τους.

2^{ος} Μύθος: Η ελιά του Αρισταίου

1. Ποιες τέχνες έμαθε ο Αρισταίος από τις Μούσες και ποιες από τις Νύμφες;

Από τις Μούσες ο Αρισταίος έμαθε τη μαντική και την ιατρική τέχνη. Από τις Νύμφες έμαθε πώς να καλλιεργεί τα αμπέλια και τις ελιές, πώς να φροντίζει τα μελίτσια και πώς να κάνει το γάλα τυρί. Κυρίως όμως οι Νύμφες τού έδειξαν πώς να καλλιεργεί τις ελιές, να τις μπολιάζει για να δίνουν καρπό, να αλέθει τον καρπό του ελαιόδεντρου και να παίρνει το πολύτιμο αλλά άγνωστο ως τότε ελαιόλαδο.

2.Γιατί ο Αρισταίος τιμήθηκε ως θεός- προστάτης των ελαιοκαλλιεργητών;

Ο Αρισταίος τιμήθηκε ως θεός-προστάτης των ελαιοκαλλιεργητών γιατί ο ίδιος μετέδωσε στους ανθρώπους τις γνώσεις του για την καλλιέργεια της ελιάς και τη χρήση της στην καθημερινή ζωή.

Κείμενο 2: «Η ελιά στην Ελλάδα και στη Μεσόγειο»

1. Πώς εμείς σήμερα γνωρίζουμε ότι η ελιά υπήρχε στην Ελλάδα εδώ και χιλιάδες χρόνια;

Σήμερα εμείς γνωρίζουμε ότι η ελιά υπήρχε στην Ελλάδα εδώ και χιλιάδες χρόνια από τις αρχαιολογικές έρευνες. Συγκεκριμένα στις Κυκλάδες βρέθηκαν απολιθωμένα φύλλα ελιάς, τα οποία υπολογίστηκαν ότι ήταν 50-60000 ετών. Επίσης, στην αρχαία Πύλο βρέθηκαν πινακίδες της Γραμμικής Β' γραφής, στις οποίες υπήρχε το ιδεόγραμμα της ελιάς και του ελαιόλαδου.

2. Γιατί το λάδι χρησιμοποιείται σε πολλές τελετές της χριστιανικής θρησκείας;

Το λάδι χρησιμοποιείται σε τελετές χριστιανικής θρησκείας γιατί:

- Ήταν το δέντρο του καλού κι αυτό του έδινε ξεχωριστή θέση.
- Ήταν πολύτιμο και αγαπητό δέντρο στους Έλληνες
- Θεωρείται θεϊκό δώρο, σύμβολο ειρήνης, προστασίας και γονιμότητας.

3. Σε ποιους αγώνες της αρχαίας Ελλάδας, τα κλαδιά της ελιάς γίνονταν βραβεία για τους νικητές;

Στεφάνωναν τους νικητές με κλαδιά ελιάς στους αρχαίους Ολυμπιακούς Αγώνες στην Ελλάδα.

4. Για ποιους καλλιτέχνες η ελιά ήταν και είναι πηγή έμπνευσης;

Η ελιά ήταν και είναι πηγή έμπνευσης για τους ποιητές, τους ζωγράφους, τους τραγουδιστές και για τους συγγραφείς.

Ώρα για γραμματική...

ΑΣΚΗΣΗ 1: Ξαναγράψετε το κείμενο στο τετράδιό σας κάνοντας τις απαραίτητες διορθώσεις.

Το περασμένο Σάββατο με τον θείο μου, τον **Κώστα** ξεκινήσαμε πολύ πρωί από τη **Λευκωσία** για μια εκδρομή. Όταν φτάσαμε στη **Λεμεσό**, σταματήσαμε για λίγο. Ο πατέρας μου με το θείο μου και τον αδελφό μου, τον **Γιώργο**, πήγαν για καφέ και εγώ με την αδερφή μου, την **Κατερίνα**, για μια βόλτα στην παραλία. Ύστερα από λίγο συνεχίσαμε τη διαδρομή μας. Πέρασαμε από το **Κούριο**, την **Πέτρα** του **Ρωμιού** και κατά τις δέκα, φτάσαμε στη **Πάφο**.

ΑΣΚΗΣΗ 2 : Ξαναγράψετε τις προτάσεις γράφοντας κεφάλαιο όπου πρέπει.

1. Το **Πάσχα** θα το περάσουμε στο χωριό του παππού μου που βρίσκεται στο **Τρόδος**.
2. Η μητέρα του φίλου μου του **Αντρέα** είναι από την **Ισπανία**.
3. Ο θείος μου εργάζεται στο **Γενικό Νοσοκομείο Λευκωσίας**.
4. Εγώ φοιτώ στο **Δημοτικό Σχολείο Μακεδονίτισσας Γ'**.
5. Οι **Έλληνες** επαναστάτησαν για να ελευθερώσουν την **Ελλάδα** από τους **Τούρκους**.

ΑΣΚΗΣΗ 3: Δημιουργήστε περιεκτικά ουσιαστικά από τις παρακάτω λέξεις και στη συνέχεια συμπληρώστε τις προτάσεις που ακολουθούν.

| | |
|---------------------------|--------------------------|
| αμπέλι -αμπελώνας | στρατός - στρατώνας |
| αμυγδαλιά- αμυγδαλεώνας | περιστέρι - περιστερώνας |
| άχυρο-αχυρώνας | πέυκο - πευκώνας |
| άνθος - ανθώνας | ελιά - ελαιώνας |
| καλάμι - καλαμιώνας | όρνιθα- ορνιθώνας |
| πορτοκαλιά -πορτοκαλεώνας | ξένος - ξενώνας |

1. Οδήγησε το άλογο στον **αχυρώνα** (άχυρο).
2. Ο θείος μου έχει ένα μεγάλο **ορνιθώνα** (όρνιθα) όπου εκτρέφει κότες.
3. Ο **στρατώνας** (στρατός) βρίσκεται έξω από την πόλη.
4. Έφτιαξαν κι έναν όμορφο **ξενώνα** (ξένος), για να κοιμούνται οι φίλοι τους.
5. Ο Άρης ανέβηκε στην τaráτσα να καθαρίσει τον **περιστερώνα** (περιστέρι).


Αντιστοιχίστε τις σύνθετες λέξεις με τη σημασία τους.

- | | | |
|---|--|----------------------|
| 1. Η ζωγραφική με λαδομπογιές | | A. ελαιοτριβείο |
| 2. το λάδι που βγαίνει από τον καρπό της ελιάς | | B. ελαιογραφία |
| 3. αυτός που καλλιεργεί ελιές | | Γ. ελαιοχρωματιστής |
| 4. το εργαστήριο όπου βγάζουν το λάδι | | Δ. ελαιόλαδο |
| 5. ο ειδικός τεχνίτης για το βάψιμο με λαδομπογιά | | Ε. ελαιοκαλλιεργητής |

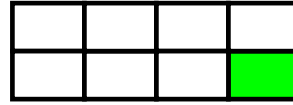


ΕΠΑΝΑΛΗΨΗ ΣΤΑ ΚΛΑΣΜΑΤΑ- **ΛΥΣΕΙΣ**


ΑΣΚΗΣΗ 1. Τι μέρος κάθε σχήματος είναι χρωματισμένο;
Γράψτε το κατάλληλο κλάσμα:




↙ $\frac{1}{3}$




↙ $\frac{1}{8}$



↙ $\frac{1}{4}$



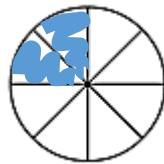
↙ $\frac{1}{2}$



ΑΣΚΗΣΗ 2. Χρωματίστε το μέρος του σχήματος που λέει κάθε κλάσμα.



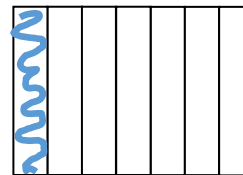
$\frac{3}{4}$



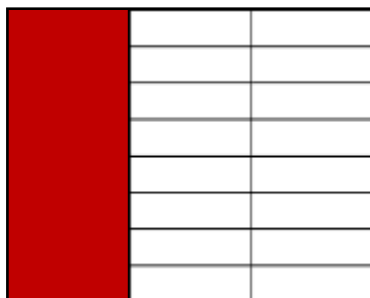
$\frac{2}{8}$



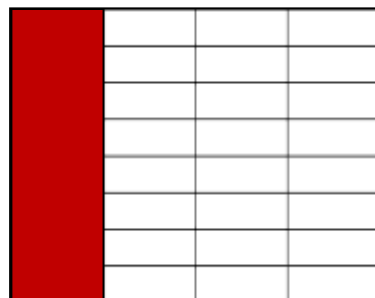
$\frac{4}{9}$



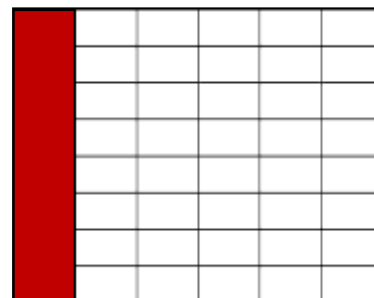
$\frac{1}{7}$



$\frac{1}{3}$



$\frac{1}{4}$



$\frac{1}{6}$

ΑΣΚΗΣΗ 3: Απαντήστε στις πιο κάτω ερωτήσεις

1. Τι μέρος των παιχνιδιών είναι τα αρκουδάκια;
2. Τι μέρος των παιχνιδιών είναι οι παλιάτσοι;
3. Τι μέρος των παιχνιδιών είναι τα παπάκια;

5
12
1
12
3
12



ΑΣΚΗΣΗ 3: Υπολογίστε

Το $\frac{2}{5}$ του 45 είναι 18

Το $\frac{4}{9}$ του 45 είναι 20

Το $\frac{2}{7}$ του 21 είναι 6

Το $\frac{3}{5}$ του 10 είναι 6

Το $\frac{3}{4}$ του 16 είναι 12

Το $\frac{3}{12}$ του 12 είναι 3

Το $\frac{2}{3}$ του 18 είναι 12

Το $\frac{2}{9}$ του 72 είναι 16

Το $\frac{3}{10}$ του 70 είναι 21

Το $\frac{3}{5}$ του 20 είναι 12

ΑΣΚΗΣΗ 4: Λύστε τα πιο κάτω προβλήματα

1. Η Μαρία είχε τα γενέθλιά της. Είχε καλέσει 40 παιδιά. Από αυτά ήρθε μόνο το $\frac{1}{2}$. Πόσα παιδιά πήγαν στα γενέθλιά της;

20 παιδιά

2. Η δασκάλα έχει 90 μολύβια. Από αυτά το $\frac{1}{3}$ είναι κόκκινα, το $\frac{1}{6}$ είναι πράσινα, το $\frac{1}{10}$ κίτρινα και τα υπόλοιπα μπλε. Πόσα μολύβια έχει από το κάθε χρώμα;

30 κόκκινα, 15 πράσινα, 9 κίτρινα και 36 μπλε

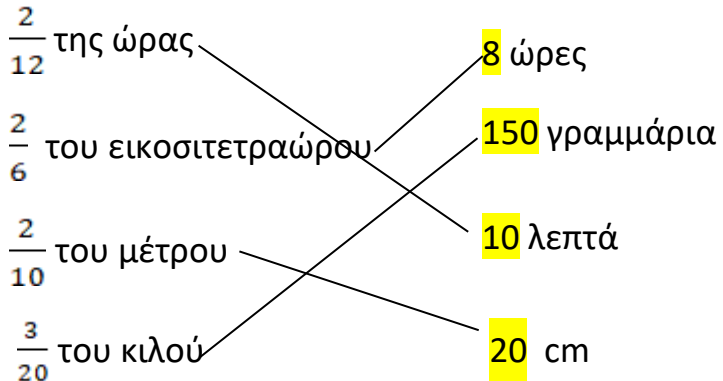
3. Τα $\frac{2}{5}$ των βόλων του Γιώργου είναι κίτρινοι. Οι 5 είναι γαλάζιοι και αποτελούν το $\frac{1}{6}$ των βόλων του. Οι υπόλοιποι είναι κόκκινοι. Πόσοι είναι οι κόκκινοι βόλοι του Γιώργου;

13 κόκκινοι βόλοι

4. Ο Αλέξανδρος ξόδεψε 20σ. Ήταν το $\frac{1}{4}$ του αρχικού ποσού που κρατούσε. Πόσα χρήματα κρατούσε ο Αλέξανδρος;

80σ.

ΑΣΚΗΣΗ 5: Αντιστοιχίστε και να συμπληρώστε



ΑΣΚΗΣΗ 6: ΠΡΟΒΛΗΜΑ

Σ' ένα διεθνές συνέδριο συμμετείχαν 84 σύνεδροι, Άγγλοι, Γάλλοι, Έλληνες και Ιταλοί. Οι Άγγλοι ήταν το $\frac{1}{2}$ των συνέδρων, οι Γάλλοι το $\frac{1}{4}$, οι Έλληνες το $\frac{1}{6}$ και οι Ιταλοί ήταν μόνο 7.

Συμπληρώστε τον πίνακα για να δείξετε την προέλευση των συνέδρων.

| | Κλάσμα | Αριθμός |
|---------|----------------|---------|
| Άγγλοι | $\frac{1}{2}$ | 42 |
| Γάλλοι | $\frac{1}{4}$ | 21 |
| Έλληνες | $\frac{1}{6}$ | 14 |
| Ιταλοί | $\frac{1}{12}$ | 7 |
| Σύνολο | 1 | 84 |

Το γάλα - Διαδικασία παραγωγής

1. Αναζήτησε τις ετικέτες των προϊόντων που έχεις στο σπίτι και σχεδίασε στο τετράδιο σου προϊόντα που περιέχουν γάλα.

Ενδεικτικές απαντήσεις:

Άσκηση 1

1. γιαούρτι
 2. τυρί
 3. κρέμα γάλακτος
 4. παγωτό
 5. σοκολάτα
 6. σοκολατούχο γάλα
- και οτιδήποτε άλλο βρείτε.

2. Βάλε τις εικόνες στη σωστή σειρά για να δείξεις την διαδικασία παραγωγής γάλακτος.

Άσκηση 2

- 1^ο στάδιο: Εικόνα 1
- 2^ο στάδιο: Εικόνα 4
- 3^ο στάδιο: Εικόνα 5
- 4^ο στάδιο: Εικόνα 3
- 5^ο στάδιο: Εικόνα 2

ΘΡΗΣΚΕΥΤΙΚΑ Δ' - ΛΥΣΕΙΣ

6^η Εβδομάδα (27-30/4/20)

Η ελιά

Share Focus Mode Print

Instructions | Embed | Edit

Across

2. ΣΕ ΑΥΤΟ ΧΡΗΣΙΜΟΠΟΙΕΙΤΑΙ ΑΛΕΥΡΙ ΛΑΔΙ ΚΑΙ ΚΡΑΣΙ
5. ΤΟ ΟΡΟΣ ΤΩΝ ... ΔΙΑΛΕΞΕ Ο ΧΡΙΣΤΟΣ ΓΙΑ ΝΑ ΠΡΟΣΕΥΧΗΘΕΙ
6. Η ΕΛΙΑ ΧΡΗΣΙΜΟΠΟΙΕΙΤΑΙ ΣΕ ΠΟΛΛΑ ΜΥΣΤΗΡΙΑ ΤΗΣ...
8. ΤΟ ΠΟΥΛΙ ΠΟΥ ΕΣΤΙΛΕ Ο ΝΩΕ ΕΞΩ ΑΠΟ ΤΗΝ ΚΙΒΩΤΟ.

Down

1. ΤΗΝ ΚΑΤΑΣΚΕΥΑΣΕ Ο ΝΩΕ
2. ΕΙΝΑΙ ΔΕΝΤΡΟ ΕΥΛΟΓΗΜΕΝΟ
3. Η ΕΛΙΑ ΘΕΩΡΕΙΤΑΙ ΔΕΝΤΡΟ ...
4. ΧΡΗΣΙΜΟΠΟΙΕΙΤΑΙ ΣΤΗ ΒΑΦΤΙΣΗ
7. ΧΡΗΣΙΜΟΠΟΙΟΥΜΕ ΤΟ ΛΑΔΙ ΓΙΑ ΝΑ ΑΝΑΒΟΥΜΕ ΤΟ

ΓΕΩΓΡΑΦΙΑ Δ' - ΛΥΣΕΙΣ

6^η Εβδομάδα (27-30/4/20)

Δραστηριότητα 1:

Λεμεσός, με μια ματιά

Η Λεμεσός είναι η 1. **δεύτερη** σε πληθυσμό πόλη της Κύπρου. Βρίσκεται στα 2. **νότια** του νησιού και είναι 3. **παραλιακή**. Τα τελευταία χρόνια έχει παρουσιάσει σημαντική ανάπτυξη. Η Λεμεσός διαθέτει το 4. **μεγαλύτερο** 5. **λιμάνι** της Κύπρου, από όπου γίνονται οι περισσότερες εισαγωγές και εξαγωγές προϊόντων. Είναι επίσης ελκυστικός τουριστικός προορισμός, αφού φημίζεται για τις θάλασσές της, τη νυχτερινή ζωή και τα αξιοθέατά της. Μερικά αξιοθέατα της Λεμεσού είναι: 6. **το Κούρειο**, 7. **το Κάστρο της Λεμεσού**, 8. **η Αρχαία Αμαθούντα** και 9. **το Κάστρο Κολοσσίου**. Η Λεμεσός είναι ξακουστή για δύο σημαντικές γιορτές που γίνονται στην πόλη: τη 10. **γιορτή του**

κρασιού και το 11. **καρναβάλι**. Πρόσφατα η Λεμεσός έχει αποκτήσει τη δική της 12. **μαρίνα**, η οποία προσελκύει πολλούς τουρίστες, αλλά και ντόπιους. Στη Λεμεσό βρίσκονται επίσης οι μεγαλύτερες 13. **οινοβιομηχανίες**, αφού η πόλη της Λεμεσού γειτονεύει με πολλά 14. **κρασοχώρια**. Εδώ έχει δημιουργηθεί η 15. **κουμανταρία**, η οποία θεωρείται το αρχαιότερο και ωραιότερο κρασί.

Δραστηριότητα 2:

1. Κάστρο Κολοσσίου
2. Αρχαίο Θέατρο Κουρίου
3. Αρχαία Αμαθούντα
4. Μαρίνα
5. Κάστρο της Λεμεσού