



Ας ακονίσουμε λίγο το μυαλό μας!

Γράψτε τις απαντήσεις σας στο τετράδιό: «Το σχολείο είναι εδώ»

1. Το ντεπόζιτο ενός αυτοκινήτου γεμίζει με 64 βενζίνη. Πόση βενζίνη υπάρχει στο αυτοκίνητο, με βάση την πιο κάτω ένδειξη;



A.20

B.24

Γ.28

Δ.30

Ε.32

2. Στην πιο κάτω αφαίρεση το A και το B είναι μονοψήφιοι αριθμοί. Ποιο είναι το άθροισμα των $A + B$;

$$\begin{array}{r} \boxed{A} \boxed{4} \\ \boxed{3} \boxed{B} \\ \hline \boxed{1} \boxed{6} \end{array}$$


A. 15

B. 14

Γ. 13

Δ. 12

Ε. 11


3. Οι πρώτες δύο ζυγαριές ισορροπούν. Πόσα βαρίδια  πρέπει να τοποθετηθούν στον άδειο δίσκο της τρίτης ζυγαριάς, ώστε να ισορροπεί;



4. Βρείτε τον αριθμό που λείπει στο κουτί

A. Βρες τι λείπει στο κουτί

Αν



$2+3=65$
 $3+4=127$
 $4+1=45$
 $2+5=107$

Τότε

$7+3=$

B. Βρες τι λείπει στο κουτί

Αν

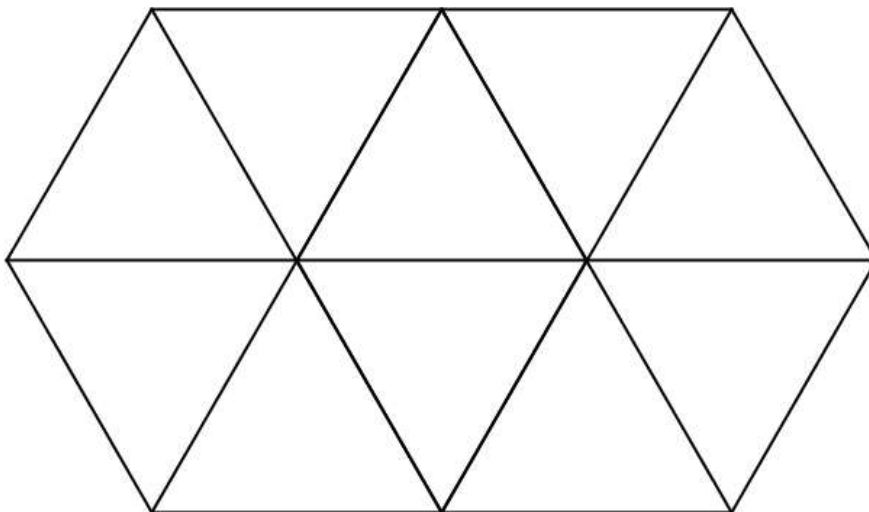


$1+5=18$
 $2+7=27$
 $3+9=36$
 $5+10=45$

Τότε

$4+20=$

5. Πόσα τρίγωνα υπάρχουν στο πιο κάτω σχήμα;



A. 5 B. 8 Γ. 10 Δ. 11 Ε. 12

Πηγή: [Κυπριακή Μαθηματική Εταιρεία](#)

ΚΙ ΑΛΛΕΣ ΣΠΑΖΟΚΕΦΑΛΙΕΣ

Αν κατάφερες να φτάσεις μέχρι εδώ, δοκίμασε αν θέλεις, να λύσεις **6 Σπαζοκεφαλίες** Για Παιδιά Δημοτικού Που Οι Περισσότεροι Ενήλικες **ΔΕΝ** Καταφέρνουν Να Λύσουν. Εσύ Θα Μπορέσεις;

Κάνε κλικ [ΕΔΩ](#)