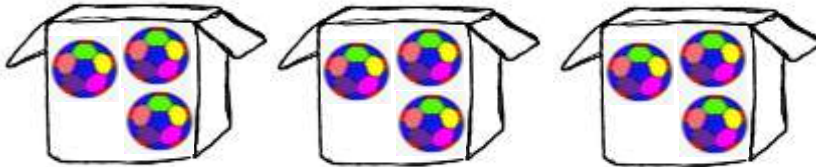


Εργάζομαι στο τετράδιο «Το σχολείο μας είναι εδώ» για τα πιο κάτω:

Μέρος Α: Εισαγωγή στον πολλαπλασιασμό

1. Σχεδιάζω 3 μπάλες σε κάθε κουτί.

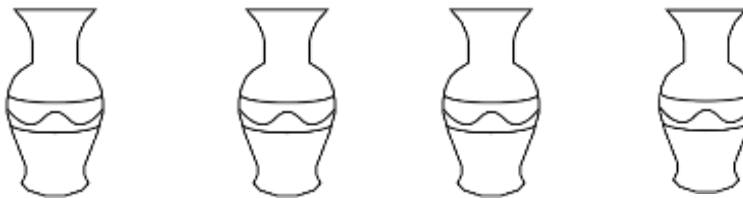


α) Πόσα είναι τα κουτιά;

β) Πόσες μπάλες σχεδίασα σε κάθε κουτί;

γ) Πόσες είναι όλες οι μπάλες;

2. Σχεδιάζω 2 λουλούδια σε κάθε βάζο.

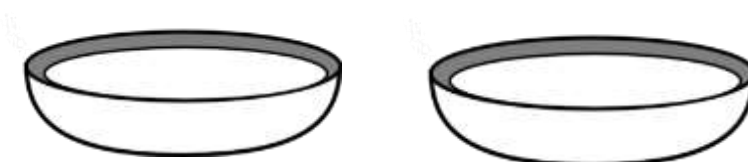


α) Πόσα είναι τα βάζα;

β) Πόσα λουλούδια σχεδίασα σε κάθε βάζο;

γ) Πόσα είναι όλα τα λουλούδια;

3. Σχεδιάζω 4 μπισκότα σε κάθε πιάτο.



α) Πόσα είναι τα πιάτα;

β) Πόσα μπισκότα σχεδίασα σε κάθε πιάτο;

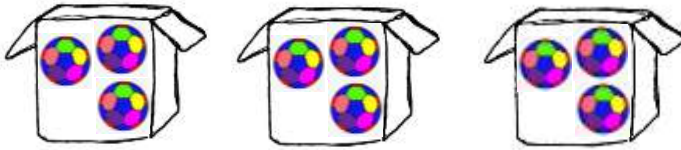
γ) Πόσα είναι όλα τα μπισκότα;

Βλέπω και ακούω προσεκτικά το παράδειγμα της δασκάλας, πατώντας πάνω στο κοριτσάκι.



Μέρος Β: Ο πολλαπλασιασμός ως επαναλαμβανόμενη πρόσθεση

1. Πόσες είναι οι μπάλες στα κουτιά;



και και ίσον

+ + =

Στα κουτιά είναι 9 μπάλες.

Βλέπω και ακούω προσεκτικά το παράδειγμα της δασκάλας.



2. Πόσα είναι τα λουλούδια στα βάζα;



και και και ίσον

+ + + =

Στα βάζα είναι _____ λουλούδια.

3. Πόσα είναι τα μπισκότα στα πιάτα;



και ίσον

+ =

Στα πιάτα είναι _____ μπισκότα.

Όταν ξέρω το ένα και ψάχνω τα πολλά, αν πολλαπλασιάσω, τα βρίσκω κι αυτά!



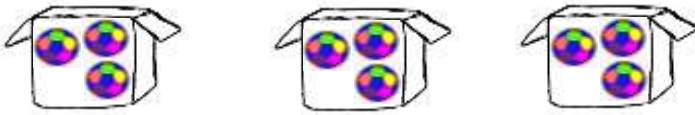
φορές



Μέρος Γ: Η μαθηματική πρόταση του πολλαπλασιασμού

Συμπληρώνω τις μαθηματικές προτάσεις πρόσθεσης και πολλαπλασιασμού.

1. Πόσες είναι οι μπάλες στα κουτιά;



$$\boxed{3} + \boxed{3} + \boxed{3} = \boxed{9}$$

$$\boxed{3} \text{ φορές } \boxed{3} \text{ ίσον } \boxed{9}$$


$$\boxed{3} \times \boxed{3} = \boxed{9}$$

Στα κουτιά είναι 9 μπάλες.

Βλέπω και ακούω προσεκτικά το παράδειγμα της δασκάλας.



2. Πόσα είναι τα λουλούδια στα βάζα;



$$\boxed{} + \boxed{} + \boxed{} + \boxed{} = \boxed{}$$


$$\boxed{} \text{ φορές } \boxed{} \text{ ίσον } \boxed{}$$

$$\boxed{} \times \boxed{} = \boxed{}$$

Στα βάζα είναι _____ λουλούδια.

3. Πόσα είναι τα μπισκότα στα πιάτα;

Μπράβο, παιδιά!
Τα καταφέρατε
και στον
πολλαπλασιασμό!



$$\boxed{} + \boxed{} = \boxed{}$$

$$\boxed{} \text{ φορές } \boxed{} \text{ ίσον } \boxed{}$$

$$\boxed{} \times \boxed{} = \boxed{}$$

Στα πιάτα είναι _____ μπισκότα.

